



0 986694 370004

98-66-94-37

(104.4)



МОСКОВСКИЙ ГОСУДАРСТВЕННЫЙ УНИВЕРСИТЕТ имени М.В.ЛОМОНОСОВА

Вариант _____

Место проведения Москва
город

ПИСЬМЕННАЯ РАБОТА


Олимпиада школьников Ломоносов
наименование олимпиады

по истории
профиль олимпиады

Семенова Ксения Романовна
фамилия, имя, отчество участника (в родительном падеже)

Дата
«22» марта 2026 года

Подпись участника
[Подпись]



Выполнять задания на титульном листе запрещается!

98-66-94-37
(104.4)

Мещерякина Е.А. ЕМ₁ ✓

Заславская У.И. (УЗ)

60

(60)

Олимпиада школьников «Ломоносов»

Заключительный этап 2025/26 учебного года по истории

9-10 классы

Блок А

Задание № 1. Внимательно прочитайте десять исторических суждений, приведённых ниже. Некоторые из них содержат фактические ошибки. Найдите и исправьте их.

1. Автором повестей «Куликовского цикла» являлся Симеон Полоцкий.
2. В период царствования Василия Шуйского был издан указ о 10-летнем сыске беглых крестьян.
3. Русская православная церковь стала автокефальной в 1448 г. при поддержке Великого князя Василия III.
4. По условиям Поляновского мира, был решён вопрос о возвращении в Россию тела Василия Шуйского.
5. В годы царствования Анны Иоанновны был построен Зимний дворец.
6. В ходе Отечественной войны 1812 г. наибольший ущерб от наполеоновского вторжения понесли Смоленск и Москва.
7. Группа «Освобождение труда» в 1879 г. распалась на две организации: «Народная воля» и «Чёрный передел».
8. П.А. Столыпин был убит 5 сентября 1911 г. в Харькове.
9. Первым государством, признавшим Советский Союз в рамках «полосы признания», стала Норвегия.
10. Целью операции «Багратион» стала ликвидация Ржевско-Вяземского выступа.

Заполните верными формулировками соответствующие строки таблицы. Если положение является верным, оставьте строку пустой.

1.	
2.	В период царствования Василия Шуйского был издан указ о 10-летнем сыске беглых крестьян.
3.	Русская православная церковь стала автокефальной в 1448 г. при поддержке Великого князя Василия III.
4.	По условиям Поляновского мира, был решён вопрос о возвращении в Россию тела Василия Шуйского.
5.	В годы царствования Анны Иоанновны был построен Зимний дворец.
6.	
7.	В ходе Отечественной войны 1812 г. наибольший ущерб от наполеоновского вторжения понесли Смоленск и Москва.
8.	П.А. Столыпин был убит 5 сентября 1911 г. в Харькове.
9.	
10.	Целью операции «Багратион» стала ликвидация Ржевско-Вяземского выступа.

сластолюбие сей хитрой женщины утверждало ее владычество. Производя слабый ропот в народе, привыкшем уважать пороки своих властителей, оно возбуждало гнусное соревнование в высших состояниях, ибо не нужно было ни ума, ни заслуг, ни талантов для достижения второго места в государстве. Много было званых и много избранных; но в длинном списке ее любимцев, обреченных презрению потомства, имя странного [...] будет отмечено рукою истории. Он разделит с Екатериною часть воинской ее славы, ибо ему обязаны мы Черным морем и блестящими, хоть и бесплодными, победами в северной Турции.

4. Лети, письмо приветное,

Лети в далекий край.

От нас поклон [...]

В столице передай, —

От всех больших и маленьких,

От жён и стариков,

От нынешних колхозников,

От бывших мужиков. <...>

К нему и днём и вечером

Со всех концов земли

За ленинскую правдою

Мы ехали и шли.

И радости и горести

Вручал ему народ...

И он сидел, обдумывал

До утренней зари —

Простой рабочий питерский,

Крестьянин из Твери.

Для каждого хорошее

Он слово находил,

С прямой дороги ленинской

Нигде не своротил.


5. Что ты заводишь песню военну
 Флейте подобно, милый снигирь?
 С кем мы пойдём войной на Гиену?
 Кто теперь вождь наш? Кто богатырь?
 Сильный где, храбрый, быстрый [...]?
 Северны громы в гробе лежат.

Государственных деятелей расположите в хронологической последовательности их рождения.

3
 +
 -
 +
 +
 -

Фамилия государственного деятеля	Номер отрывка	Буква изображения
Томский	А 3	И
Ильинский	Б 4	Л
Горюхинов	Г 2	В
Суворова	Д 5	Е
Келлерман	А 1	А

Задание № 3. Внимательно рассмотрите плакаты и карикатуры времён Великой Отечественной и советско-японской войн и расположите их по годам опубликования:



Ответ оформите в виде таблицы:

	1941	1942	1943	1944	1945
83	140	61	12792	9511	

Задание № 4. Внимательно прочитайте отрывки из исторических сочинений и установите, о каких русских правителях идёт речь. Соотнесите их с перечнем имён, приведённым ниже. В ответ выпишите буквы, под которыми указаны современники правителей, о которых идёт речь в отрывках:

1. «Он вырос вместе с поколением, которое нужда впервые заставила заботливо и тревожно посматривать на еретический Запад в чаянии найти там средства для выхода из домашних затруднений, не отрекаясь от понятий, привычек и верований благочестивой старины».
2. «...рано лишенный отца, матери и преданный в волю буйных вельмож, ослепленных безрассудным, личным властолюбием, [...] был на престоле несчастнейшим сиротою - ибо не только для себя, но и для миллионов готовил несчастье своими пороками, легко возникающими при самых лучших естественных свойствах, когда еще ум, исправитель страстей, нем в юной душе и если, вместо его, мудрый воспитатель не изъясняет ей законов нравственности...»
3. Он «...поставил себе задачей ничего не переменять, не вводить ничего нового в основаниях, а только поддерживать существующий порядок». «Никто, лучше как он, не был создан для роли самодержца... Его внушительная и величественная красота, величаявая осанка, строгая правильность олимпийского профиля, властный взгляд, все дышало неземным божеством, всемогущим повелителем... Никогда этот человек не испытал тени сомнения в своей власти или в законности ее».
4. Он «не был вовсе славлюбцем-завоевателем и в этом явился полным представителем своего народа, не завоевательного по природе племени и по условиям своей исторической жизни». Его «гений... высказался в ясном уразумении положения своего народа, он сознал, что его обязанность — вывести слабый, бедный, почти неизвестный народ из этого печального положения посредством цивилизации. Трудность дела представлялась ему во всей полноте по возвращении из-за границы, когда он мог сравнить виденное на Западе с тем, что он нашел в России, которая встретила его стрелецким бунтом».
5. Он «...дабы сохранить религиозную свободу, пожертвовал свободой политической, и два подвига... — его борьба с Западом и его смирение

перед Востоком - имели единственную цель — сбережение православия, как источника нравственной и политической силы русского народа».

А) Сигизмунд Герберштейн	Б) Елизавета I Тюдор	В) Август II Сильный	Г) Наполеон III
Д) Батый	Е) Людовик IX Святой	Ж) Цинь Шихуанди	З) Христофор Колумб
И) Джованни Плато Карпини	К) Симон Боливар	Л) Иоанн Златоуст	М) Чарльз Диккенс
Н) Оливер Кромвель	О) Станислав Лещинский	П) Сулейман Великолепный	Р) Кардинал Ришельё

1 Ответ оформите в виде таблицы:

	Имя правителя	Его современники (буквы)
1.	Иван III Иван III	А З
2.	Иван IV	Б П
3.	Александр Михайлович	И Р Н
4.	Петр I	В О
5.	Александр Невский	Г Е

Блок Б

Задание № 5. Внимательно прочитайте отрывок из исторического источника и ответьте на вопросы:

«1. Будет кто каким умышлением учнет мыслить на государское здоровье злое дело, и про то его злое умышленье кто известит, и по тому извету про то его злое умышленье сыщется допряма, что он на царское величество злое дело мыслил, и делать хотел, и такова по сыску казнить смертию.

2. Также будет кто при державе царского величества, хотя Московским государством завладеть и государем быть и для того своего злово умышления начнет рать збирать, или кто царского величества с недруги учнет дружитца, и советными грамотами ссылатца, и помочь им всячески чинить, чтобы тем государевым недругом, по его ссылке, Московским государством завладеть, или какое дурно учинить, и про то на него кто известит, и по тому извету сыщется про тое его измену допряма, и такова изменника по тому же казнити смертию.

3. А будет кто царского величества недругу город здаст изменою, или кто царского величества в города примет из и(ы)ных государств


98-66-94-37
(104.4)

товара. На протяжении нескольких лет Читовки
 ищет межгосударство производство работ
 из существующих измерений. Все измерения
 в пределах ТТМ. Этого можно достигнуть
 если внимательно обратиться к документам
 изданным. Для измерения и меры стандарта
 можно использовать, если нет
 более строгих измерений. При этом
 можно использовать по требованиям
 для измерения, и тогда нет. ТТМ
 была проведена работа по измерению
 первой измерению с 44 требованием
 производства различных товаров. Но
 производство товаров в ТТМ с
 товаром своей меры свои измерения
 измерения измерения измерения
 измерения измерения, ТТМ и
 измерения измерения. ТТМ
~~ТТМ~~ ТТМ в связи с ТТМ
ТТМ можно сделать ТТМ
 измерения измерения ТТМ
 измерения измерения ТТМ
 измерения измерения ТТМ

25

Тема освещена, но можно было
бы подробнее. Маловато внимания
уделено специализации.
Выводы сделаны хорошие.
Мешурина Е.А. (11)
Заславская У.И. (13)

ЛИСТ-ВКЛАДЫШ



Подписывать лист-вкладыш запрещается! Писать на полях листа-вкладыша запрещается!